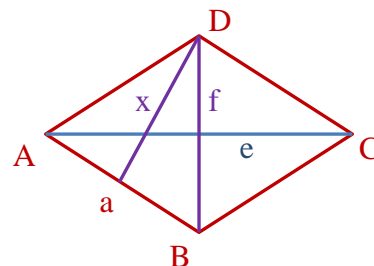


Mathematik * Klasse 9d * Hausaufgabe zum 06.12.2017

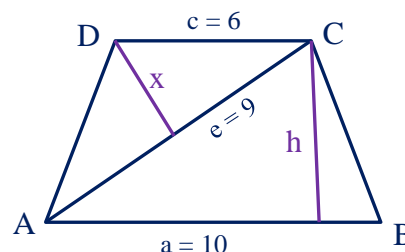


1. Gegeben sind die 4 Punkte $A(1/-1)$, $B(5/1)$, $C(4/3)$ und $D(-1/3)$.
 Prüfe jeweils durch geeignete Rechnung, welches der folgenden Dreiecke rechtwinklig ist:
 $\triangle ABC$, $\triangle BCD$, $\triangle ABD$

2. In einer Raute mit der Kantenlänge $a = 8\text{cm}$ hat eine der Diagonalen die Länge $e = 12\text{cm}$.
 a) Berechne die Länge der zweiten Diagonale f und den Flächeninhalt der Raute.
 b) Berechne den Abstand der Ecke D von der Seite $[AB]$.



3. Im abgebildeten gleichschenkligen Trapez $ABCD$ sind die folgenden Streckenlängen bekannt.
 $\overline{AB} = a = 10$, $\overline{CD} = c = 6$ und $\overline{AC} = e = 9$
 a) Berechne die Höhe h im Trapez.
 b) Berechne den Flächeninhalt des Trapezes.
 c) Berechne den Flächeninhalt des Dreiecks ACD .
 d) Berechne den Abstand des Punktes D von AC .

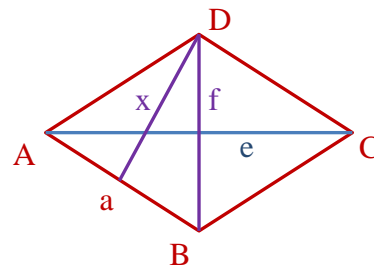


Mathematik * Klasse 9d * Hausaufgabe zum 06.12.2017

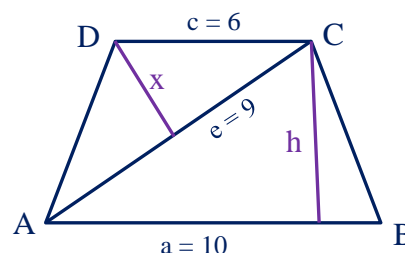


1. Gegeben sind die 4 Punkte $A(1/-1)$, $B(5/1)$, $C(4/3)$ und $D(-1/3)$.
 Prüfe jeweils durch geeignete Rechnung, welches der folgenden Dreiecke rechtwinklig ist:
 $\triangle ABC$, $\triangle BCD$, $\triangle ABD$

2. In einer Raute mit der Kantenlänge $a = 8\text{cm}$ hat eine der Diagonalen die Länge $e = 12\text{cm}$.
 a) Berechne die Länge der zweiten Diagonale f und den Flächeninhalt der Raute.
 b) Berechne den Abstand der Ecke D von der Seite $[AB]$.



3. Im abgebildeten gleichschenkligen Trapez $ABCD$ sind die folgenden Streckenlängen bekannt.
 $\overline{AB} = a = 10$, $\overline{CD} = c = 6$ und $\overline{AC} = e = 9$
 a) Berechne die Höhe h im Trapez.
 b) Berechne den Flächeninhalt des Trapezes.
 c) Berechne den Flächeninhalt des Dreiecks ACD .
 d) Berechne den Abstand des Punktes D von AC .



Mathematik * Klasse 9d * Lösung der Hausaufgabe zum 06.12.2017

$$1. \quad \overline{AB} = \sqrt{(5-1)^2 + (1-(-1))^2} = \sqrt{16+4} = \sqrt{20} = 2 \cdot \sqrt{5}; \quad \overline{AC} = \sqrt{(4-1)^2 + (3-(-1))^2} = \sqrt{9+16} = \sqrt{25} = 5$$

$$\overline{AD} = \sqrt{(-1-1)^2 + (3-(-1))^2} = \sqrt{4+16} = \sqrt{20} = 2 \cdot \sqrt{5}; \quad \overline{BC} = \sqrt{(5-4)^2 + (1-3)^2} = \sqrt{1+4} = \sqrt{5}$$

$$\overline{BD} = \sqrt{(-1-5)^2 + (3-1)^2} = \sqrt{36+4} = \sqrt{40} = 2 \cdot \sqrt{10}; \quad \overline{CD} = \sqrt{(-1-4)^2 + (3-3)^2} = \sqrt{25+0} = 5$$

$$\Delta ABC: \quad \overline{AB}^2 = (2 \cdot \sqrt{5})^2 = 4 \cdot 5 = 20; \quad \overline{BC}^2 = (\sqrt{5})^2 = 5; \quad \overline{AC}^2 = 5^2 = 25$$

$$\overline{AC}^2 = 25 = 20 + 5 = \overline{AB}^2 + \overline{BC}^2 \quad \text{also } \Delta ABC \text{ rechtwinklig mit } \beta = 90^\circ$$

$$\Delta BCD: \quad \overline{BC}^2 = (\sqrt{5})^2 = 5; \quad \overline{BD}^2 = (2 \cdot \sqrt{10})^2 = 4 \cdot 10 = 40; \quad \overline{CD}^2 = 5^2 = 25$$

$$\overline{BD}^2 = 40 > 30 = 25 + 5 = \overline{CD}^2 + \overline{BC}^2 \quad \text{also } \Delta BCD \text{ nicht rechtwinklig}$$

$$\Delta ABD: \quad \overline{AB}^2 = (2 \cdot \sqrt{5})^2 = 4 \cdot 5 = 20; \quad \overline{BD}^2 = (\sqrt{40})^2 = 40; \quad \overline{AD}^2 = (\sqrt{20})^2 = 20$$

$$\overline{BD}^2 = 40 = 20 + 20 = \overline{AB}^2 + \overline{AD}^2 \quad \text{also } \Delta ABD \text{ rechtwinklig mit } \sphericalangle BAD = 90^\circ$$



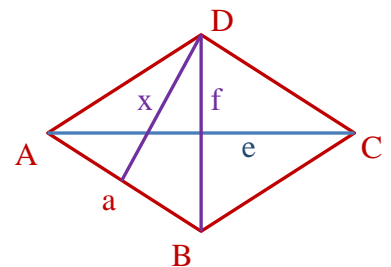
$$2.a) \quad a^2 = \left(\frac{e}{2}\right)^2 + \left(\frac{f}{2}\right)^2 \Rightarrow \frac{f^2}{4} = a^2 - \frac{e^2}{4} \Rightarrow$$

$$f^2 = 4a^2 - e^2 \Rightarrow f = \sqrt{4a^2 - e^2} = \sqrt{4 \cdot 64 \text{cm}^2 - 144 \text{cm}^2} =$$

$$\sqrt{112 \text{cm}^2} = 4 \cdot \sqrt{7} \text{ cm} \approx 10,6 \text{ cm}$$

$$A_{ABCD} = 4 \cdot \frac{1}{2} \cdot \frac{e}{2} \cdot \frac{f}{2} = 2 \cdot e \cdot f = 2 \cdot 8 \text{cm} \cdot 4 \cdot \sqrt{7} \text{cm} = 64 \cdot \sqrt{7} \text{cm}^2 \approx 169 \text{cm}^2$$

$$b) \quad A_{ABCD} = a \cdot x \Rightarrow 64 \cdot \sqrt{7} \text{cm}^2 = 8 \text{cm} \cdot x \Rightarrow x = \frac{64 \cdot \sqrt{7} \text{cm}^2}{8 \text{cm}} = 8 \cdot \sqrt{7} \text{cm} \approx 21,2 \text{cm}$$



3.a) Wegen der Achsensymmetrie gilt:

$$x = (a - c) : 2 = (10 - 6) : 2 = 2 \quad \text{und} \quad \overline{AF} = a - x = 8$$

$$\overline{AC}^2 = \overline{AF}^2 + h^2 \Rightarrow h = \sqrt{\overline{AC}^2 - \overline{AF}^2} = \sqrt{9^2 - 8^2}$$

$$h = \sqrt{81 - 64} = \sqrt{17}$$

$$b) \quad A_{ABCD} = c \cdot h + 2 \cdot \frac{1}{2} \cdot x \cdot h = (c + x) \cdot h =$$

$$(6 + 2) \cdot \sqrt{17} = 8 \cdot \sqrt{17}$$

$$c) \quad A_{ACD} = A_{ABCD} - A_{ABC} = 8 \cdot \sqrt{17} - \frac{1}{2} \cdot a \cdot h = 8 \cdot \sqrt{17} - \frac{1}{2} \cdot 10 \cdot \sqrt{17} = 3 \cdot \sqrt{17}$$

$$d) \quad A_{ACD} = \frac{1}{2} \cdot e \cdot x \Rightarrow 3 \cdot \sqrt{17} = \frac{1}{2} \cdot 9 \cdot x \Rightarrow x = \frac{3 \cdot \sqrt{17}}{\frac{9}{2}} = \frac{2 \cdot \sqrt{17}}{3}$$

