

Q11 * Mathematik * Übungsaufgaben zum Skalarprodukt

1. Gegeben sind die Punkte $A(1/2/3)$ und $B(3/0/2)$.

- Bestimmen Sie einen Punkt C so, dass das Dreieck ABC gleichschenkelig ist.
- Bestimmen Sie nun den Flächeninhalt dieses Dreiecks ABC .
- Bestimmen Sie einen Punkt C so, dass das Dreieck ABC den Flächeninhalt $6,75$ hat.



2. Gegeben sind die Punkte $A(1/2/3)$, $B(3/3/5)$ und $C(1/5/6)$.

- Zeigen Sie, dass man das Dreieck ABC zu einem Quadrat $ABCD$ ergänzen kann und bestimmen Sie die Koordinaten dieses vierten Eckpunktes D .
- Bestimmen Sie die Koordinaten eines Punktes S so, dass die Pyramide $ABCDS$ das Volumen $V = 18$ besitzt.

3. Gegeben sind die Punkte $A(3/2/1)$ und $B(4/6/9)$.

Finden Sie jeweils Punkte mit ganzzahligen Koordinaten so, dass gilt:

- $ABCD$ ist eine Raute,
- $ABCD$ ist ein Rechteck,
- $ABCD$ ist ein gleichschenkliges Trapez aber kein Rechteck,
- (für Tüftler) $ABCD$ ist ein Quadrat.

4. Gegeben sind die Punkte $A(1/2/-3)$, $B(4/-1/3)$ und $P(3/4/0)$.

Bestimmen Sie den Abstand des Punktes P von der Geraden AB .

5. Gegeben sind die Punkte $A(1/2/3)$, $B(5/-2/1)$ und $C_k(3+2k / k / 2+2k)$ mit $k \in \mathbb{R}$.

- Zeigen Sie, dass das Dreieck ABC_k für fast jedes $k \in \mathbb{R}$ gleichschenkelig ist.
- Wo liegen alle diese Punkte C_k ?
Für welches $k \in \mathbb{R}$ ist ABC_k kein Dreieck?
- Für welches $k \in \mathbb{R}$ hat das Dreieck den Flächeninhalt 18 ?

6. Gegeben sind die Punkte $A(3/-3/4)$, $B(9/0/1)$, $C(2/4/-1)$ und $D(-1/1/-4)$.

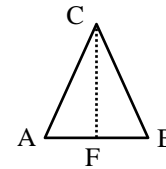
- Zeigen Sie, dass die beiden Geraden AB und CD windschief sind.
- Bestimmen Sie den Abstand der beiden windschiefen Geraden voneinander.



Q11 * Mathematik * Übungsaufgaben zum Skalarprodukt * Lösungen

1. a) $A(1/2/3)$, $B(3/0/2)$. Wähle $[AB]$ als Basis

$$\vec{F} = \frac{1}{2} \cdot (\vec{A} + \vec{B}) = \begin{pmatrix} 2 \\ 1 \\ 2,5 \end{pmatrix}; \text{ wähle } \vec{n} \perp \overline{AB} = \begin{pmatrix} 2 \\ -2 \\ -1 \end{pmatrix}$$



$$\text{z.B. } \vec{n} = \begin{pmatrix} 2 \\ 1 \\ 2 \end{pmatrix} \text{ und } \vec{C} = \vec{F} + \vec{n} = \begin{pmatrix} 4 \\ 2 \\ 4,5 \end{pmatrix}$$

$$\text{b) } A_{\Delta ABC} = \frac{1}{2} \cdot |\overline{AB}| \cdot |\overline{FC}| = \frac{1}{2} \cdot 3 \cdot 3 = 4,5$$

$$\text{c) } 6,75 = A_{\Delta ABC} = \frac{1}{2} \cdot |\overline{AB}| \cdot |\overline{FC}| = \frac{1}{2} \cdot 3 \cdot |\overline{FC}| \Rightarrow |\overline{FC}| = 4,5 \text{ und } \vec{C} = \vec{F} + 1,5 \cdot \vec{n} = \begin{pmatrix} 5 \\ 2,5 \\ 5,5 \end{pmatrix}$$

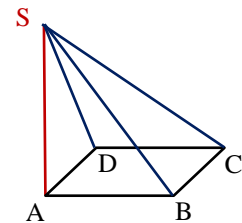
2. a) $A(1/2/3)$, $B(3/3/5)$ und $C(1/5/6)$.

$$\overline{AB} = \begin{pmatrix} 2 \\ 1 \\ 2 \end{pmatrix}, \overline{BC} = \begin{pmatrix} -2 \\ 2 \\ 1 \end{pmatrix}; \overline{AB} \circ \overline{BC} = 0 \text{ also } \overline{AB} \perp \overline{BC} \text{ und } |\overline{AB}| = |\overline{BC}| = 3$$

$$\text{daher } \vec{D} = \vec{A} + \overline{BC} = \begin{pmatrix} -1 \\ 4 \\ 4 \end{pmatrix}$$

b) Wähle S senkrecht über z.B. dem Punkt A im Abstand $h = 6$,

$$\text{denn aus } 18 = V = \frac{1}{3} \cdot A_{ABCD} \cdot h = \frac{1}{3} \cdot 3 \cdot 3 \cdot h \text{ folgt } h = 3.$$



$$\vec{n} \perp \overline{AB} \text{ und } \vec{n} \perp \overline{BC} \text{ liefert z.B. } \vec{n} = \begin{pmatrix} 1 \\ 2 \\ -2 \end{pmatrix} \text{ mit } |\vec{n}| = 3, \text{ also } \vec{S} = \vec{A} + 2 \cdot \vec{n} = \begin{pmatrix} 3 \\ 6 \\ -1 \end{pmatrix}$$

3. Gegeben sind die Punkte $A(3/2/1)$ und $B(4/6/9)$.

a) Für eine Raute muss gelten $|\overline{AB}| = |\overline{BC}|$ und $|\overline{AB}| \neq |\overline{BC}|$

$$\text{und mit } \overline{AB} = \begin{pmatrix} 1 \\ 4 \\ 8 \end{pmatrix} \text{ z.B. } \overline{BC} = \begin{pmatrix} 8 \\ 4 \\ 1 \end{pmatrix} \text{ und damit } \vec{C} = \begin{pmatrix} 12 \\ 10 \\ 10 \end{pmatrix} \text{ und } \vec{D} = \vec{A} + \overline{BC} = \begin{pmatrix} 11 \\ 6 \\ 2 \end{pmatrix}$$

b) Für eine Rechteck muss gelten $\overline{AB} \perp \overline{BC}$

$$\text{und mit } \overline{AB} = \begin{pmatrix} 1 \\ 4 \\ 8 \end{pmatrix} \text{ z.B. } \overline{BC} = \begin{pmatrix} 4 \\ -1 \\ 0 \end{pmatrix} \text{ und damit } \vec{C} = \begin{pmatrix} 8 \\ 5 \\ 9 \end{pmatrix} \text{ und } \vec{D} = \vec{A} + \overline{BC} = \begin{pmatrix} 7 \\ 1 \\ 1 \end{pmatrix}$$

c) Verwende für das gleichschenklige Trapez das Rechteck aus b) und wähle z.B.

$$\vec{C}_{\text{neu}} = \vec{C} + \overline{AB} = \begin{pmatrix} 8 \\ 5 \\ 9 \end{pmatrix} + \begin{pmatrix} 1 \\ 4 \\ 8 \end{pmatrix} = \begin{pmatrix} 9 \\ 9 \\ 17 \end{pmatrix} \text{ und } \vec{D}_{\text{neu}} = \vec{D} - \overline{AB} = \begin{pmatrix} 7 \\ 1 \\ 1 \end{pmatrix} - \begin{pmatrix} 1 \\ 4 \\ 8 \end{pmatrix} = \begin{pmatrix} 6 \\ -3 \\ 9 \end{pmatrix}$$

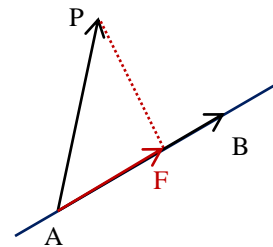
b) Für eine Quadrat muss gelten $\overrightarrow{AB} \perp \overrightarrow{BC}$ und $|\overrightarrow{AB}| = |\overrightarrow{BC}| = \sqrt{1+16+64} = 9$

$$\text{zu } \overrightarrow{AB} = \begin{pmatrix} 1 \\ 4 \\ 8 \end{pmatrix} \text{ passt } \overrightarrow{BC} = \begin{pmatrix} 8 \\ -4 \\ 1 \end{pmatrix} \text{ und damit } \vec{C} = \begin{pmatrix} 12 \\ 2 \\ 10 \end{pmatrix} \text{ und } \vec{D} = \vec{A} + \overrightarrow{BC} = \begin{pmatrix} 11 \\ -2 \\ 2 \end{pmatrix}$$

4. Die Projektion von \overrightarrow{AP} auf \overrightarrow{AB} liefert den Fusspunkt F des Lots.

$$\overrightarrow{AF} = \frac{\overrightarrow{AP} \circ \overrightarrow{AB}}{\overrightarrow{AB} \circ \overrightarrow{AB}} \cdot \overrightarrow{AB} = \frac{-18}{54} \cdot \begin{pmatrix} 3 \\ -3 \\ 6 \end{pmatrix} = \begin{pmatrix} 1 \\ -1 \\ 2 \end{pmatrix} \text{ und damit } \vec{F} = \begin{pmatrix} 2 \\ 1 \\ -1 \end{pmatrix}$$

$$\text{und } d = |\overrightarrow{PF}| = \sqrt{1+9+1} = \sqrt{11}$$



5. a) $|\overrightarrow{AC_k}| = \dots = \sqrt{9k^2 + 9} = 3 \cdot \sqrt{k^2 + 1}$ und $|\overrightarrow{BC_k}| = \sqrt{9k^2 + 9} = 3 \cdot \sqrt{k^2 + 1}$

b) Die Punkte C_k liegen auf einer Mittelsenkrechten zur Strecke $[AB]$.

Falls C_k genau die Mitte M von $[AB]$ ist, liegt kein Dreieck vor.

$$M_{[AB]} = (3/0/2) = C_0 \text{ also } k = 0.$$

c) $|\overrightarrow{AB}| = \sqrt{16+16+4} = 6$ und $M(3/0/2)$

$$18 = A_{\Delta ABC_k} = \frac{1}{2} \cdot |\overrightarrow{AB}| \cdot |\overrightarrow{MC_k}| \Rightarrow |\overrightarrow{MC_k}| = 6 \text{ und } |\overrightarrow{MC_k}| = \sqrt{4k^2 + k^2 + 4k^2} = 3 \cdot |k| \Rightarrow |k| = 2 \text{ und } k_{1/2} = \pm 2$$

6. Gegeben $A(3/-3/4)$, $B(9/0/1)$, $C(2/4/-1)$ und $D(-1/1/-4)$.

a) $\overrightarrow{AB} = \begin{pmatrix} 6 \\ 3 \\ -3 \end{pmatrix} = 3 \cdot \begin{pmatrix} 2 \\ 1 \\ -1 \end{pmatrix}$ und $\overrightarrow{DC} = 3 \cdot \begin{pmatrix} 1 \\ 1 \\ 1 \end{pmatrix}$ also $\overrightarrow{AB} \neq r \cdot \overrightarrow{DC}$ für alle $r \in \mathbb{R}$

Die Annahme $AB \cap CD = \{S\}$ führt zu einem Widerspruch, also sind AB und CD windschief.

b) gesucht \vec{n} mit $\vec{n} \perp \overrightarrow{AB}$ und $\vec{n} \perp \overrightarrow{CD}$,

$$\text{das liefert z.B. } \vec{n} = \begin{pmatrix} 2 \\ -3 \\ 1 \end{pmatrix}$$

$$\overrightarrow{AF_2} = k \cdot \overrightarrow{AB} + t \cdot \vec{n} \text{ und } \overrightarrow{AF_2} = \overrightarrow{AD} + s \cdot \overrightarrow{DC} \text{ liefert}$$

$$t = -2 \text{ und } k = \frac{2}{3} \text{ und } s = \frac{4}{3} \text{ und daher}$$

$$F_1(7/-1/2) \text{ und } F_2(3/5/0) \text{ und der gesuchte}$$

$$\text{Abstand lautet } d = |\overrightarrow{F_1F_2}| = \sqrt{16+36+4} = \sqrt{56} = 2 \cdot \sqrt{14}$$

