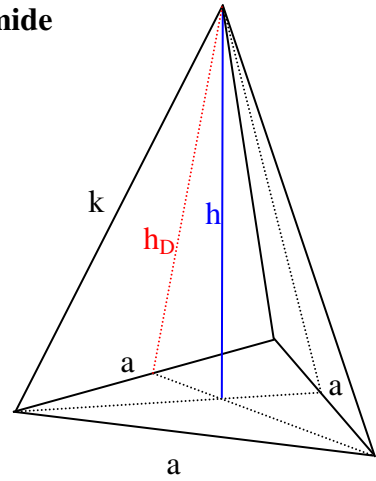


Mathematik * Jahrgangsstufe 9 * Aufgaben zur Pyramide

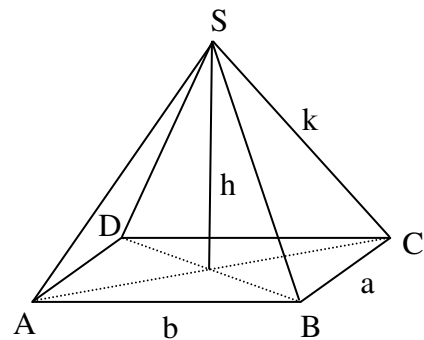
1. Eine gerade Pyramide besitzt als Grundfläche ein gleichseitiges Dreieck mit der Seitenlänge $a = 3,0\text{cm}$. Die Höhe der Pyramide beträgt $h = 2a = 6,0\text{cm}$.

- Zeichne sauber ein maßstabsgetreues Netz der Pyramide.
- Berechne die Kantenlänge k und die Länge der Höhe h_D in einem Seitendreieck.
- Berechne Volumen und Oberflächeninhalt der Pyramide.



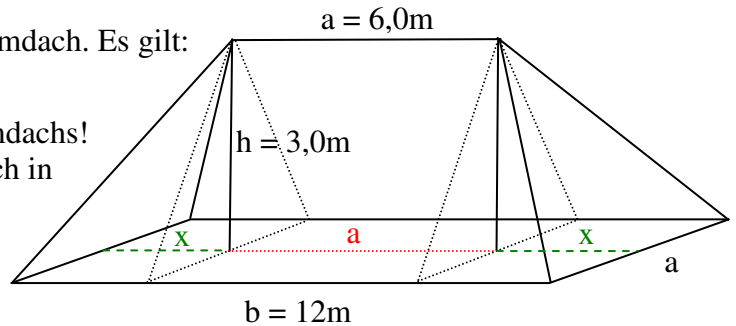
2. Eine gerade Pyramide besitzt als Grundfläche ein Rechteck mit den Seitenlängen $a = 2,0\text{cm}$ und $b = 4,0\text{cm}$. Die Spitze der Pyramide befindet sich in einem Abstand $h = 3,0\text{cm}$ über der Grundfläche.

- Zeichne das Dreieck DBS in wahrer Größe!
- Sind die Dreiecke DBS und ACS kongruent zueinander? (Begründung!)
- Zeichne die Dreiecke ABS und BCS in wahrer Größe!
- Berechne die Kantenlänge k .
- Berechne die Flächeninhalte der Dreiecke ABS und BCS.
- Berechne den Oberflächeninhalt und das Volumen der Pyramide.



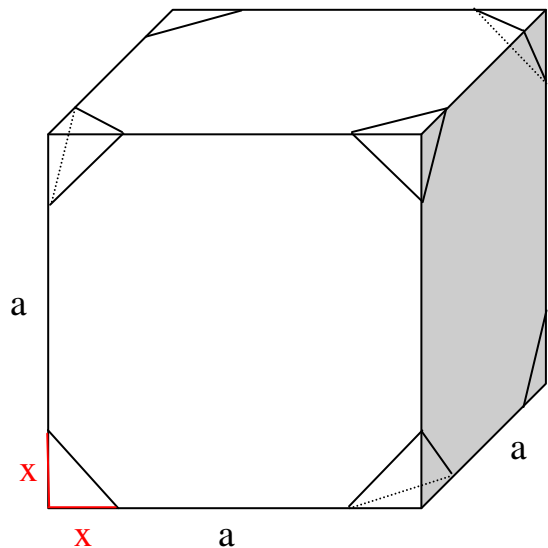
3. Das Bild zeigt ein so genanntes Walmdach. Es gilt:
 $a = 6,0\text{m}$, $b = 12\text{m}$, $h = 3,0\text{m}$

- Berechne das Volumen des Walmdachs!
Hinweis: Man kann das Walmdach in zwei kongruente Pyramiden und ein Prisma zerlegen.
- Berechne den Oberflächeninhalt des Dachs (ohne Grundfläche).



4. Schneidet man von einem Würfel mit der Kantenlänge a regelmäßige Tetraeder mit drei Kantenlängen x ab, so entsteht ein neuer, sehr symmetrischer Körper.

- Berechne den Oberflächeninhalt des Körpers in der Einheit a^2 , wenn $x = 0,2a$ gilt.
- Berechne das Volumen des Körpers in der Einheit a^3 , wenn $x = 0,2a$ gilt.
- Zeichne ein sauberes Schrägbild des Körpers, falls $x = 0,5a$ gilt. Wie groß ist nun der Oberflächeninhalt?



Mathematik * Jahrgangsstufe 9 * Aufgaben zur Pyramide * Lösungen

1. b) $k^2 = h^2 + x^2$ mit

$$x = \frac{2}{3} \cdot \frac{\sqrt{3}}{2} a = \frac{\sqrt{3}}{3} a$$

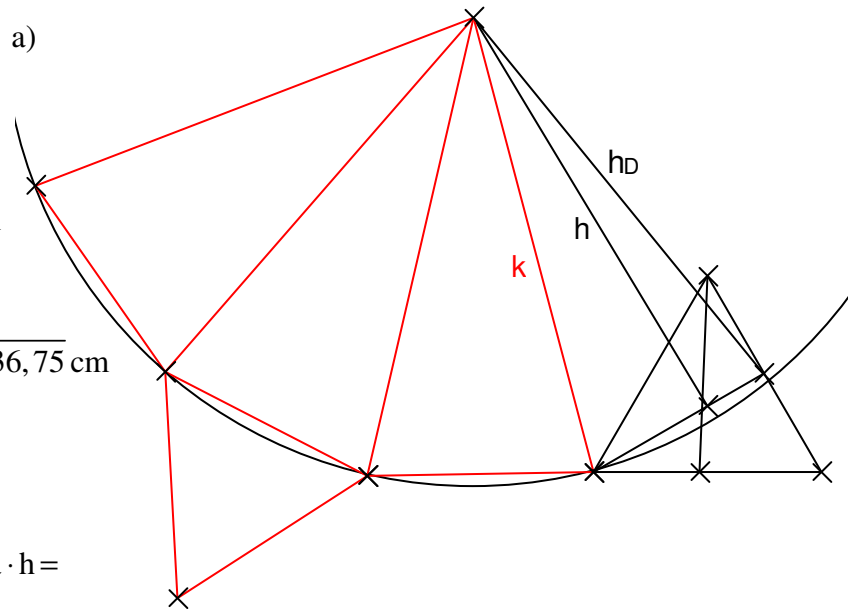
also

$$k = \sqrt{6^2 + 3} \text{ cm} = \sqrt{39} \text{ cm}$$

$$h_D^2 + \left(\frac{a}{2}\right)^2 = k^2 \Rightarrow$$

$$h_D = \sqrt{39 - 1,5^2} \text{ cm} = \sqrt{36,75} \text{ cm}$$

$$h_D = \frac{\sqrt{147}}{2} \text{ cm}$$



c) $V = \frac{1}{3} \cdot G \cdot h = \frac{1}{3} \cdot \frac{1}{2} \cdot a \cdot \frac{\sqrt{3}}{2} a \cdot h =$

$$\frac{1}{3} \cdot \frac{1}{2} \cdot 3 \cdot \frac{\sqrt{3}}{2} \cdot 3 \cdot 3 \text{ cm}^3 = \frac{9\sqrt{3}}{4} \text{ cm}^3 \quad \text{und}$$

$$A = \frac{1}{2} \cdot a \cdot \frac{\sqrt{3}}{2} a + 3 \cdot \frac{1}{2} \cdot a \cdot h_D = \frac{1}{2} \cdot 3 \cdot \frac{\sqrt{3}}{2} \cdot 3 \text{ cm}^2 + 3 \cdot \frac{1}{2} \cdot 3 \cdot \frac{\sqrt{147}}{2} \text{ cm}^2 = \frac{9 \cdot (\sqrt{3} + \sqrt{147})}{4} \text{ cm}^2$$

2. a) c) siehe Bild!

b) $\triangle DBS \cong \triangle ACS$ nach SSS-Satz,

denn $\overline{DB} = \overline{AC}$ und

$\overline{DS} = k = \overline{AS}$ und $\overline{BS} = k = \overline{CS}$

d) $k^2 = \overline{DM}^2 + h^2$ und

$$\left(2 \cdot \overline{DM}\right)^2 = a^2 + b^2$$

und daher

$$\overline{DM} = \frac{1}{2} \cdot \sqrt{4 + 16} \text{ cm} = \sqrt{5} \text{ cm}$$

$$k = \sqrt{5 + 9} \text{ cm} = \sqrt{14} \text{ cm}$$

e) Höhe h_1 im $\triangle ABS$:

$$h_1 = \sqrt{k^2 - \left(\frac{b}{2}\right)^2} = \sqrt{14 - 4} \text{ cm} = \sqrt{10} \text{ cm}$$

Höhe h_2 im $\triangle BCS$:

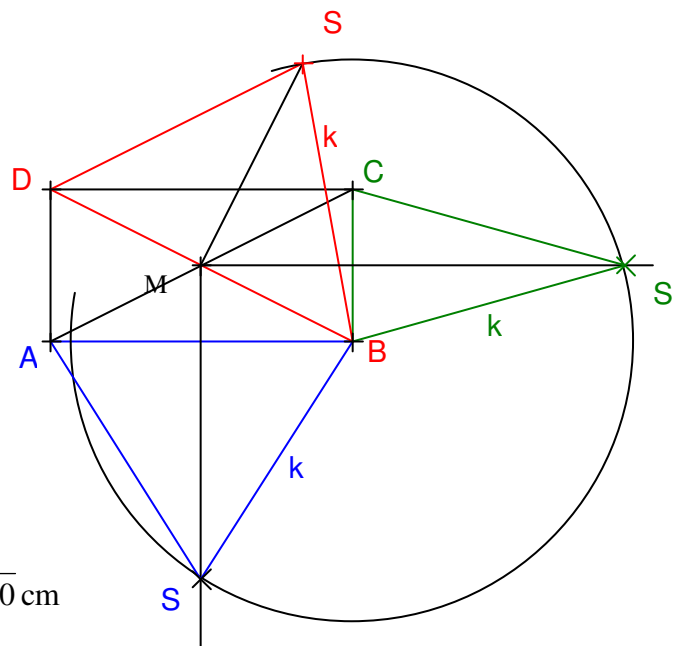
$$h_2 = \sqrt{k^2 - \left(\frac{a}{2}\right)^2} = \sqrt{14 - 1} \text{ cm} = \sqrt{13} \text{ cm}$$

$$A_{\triangle ABS} = \frac{1}{2} \cdot b \cdot h_1 = \frac{1}{2} \cdot 4 \cdot \sqrt{10} \text{ cm}^2 = 2\sqrt{10} \text{ cm}^2$$

$$A_{\triangle BCS} = \frac{1}{2} \cdot a \cdot h_2 = \frac{1}{2} \cdot 2 \cdot \sqrt{13} \text{ cm}^2 = \sqrt{13} \text{ cm}^2$$

f) $A_{\text{Pyramide}} = 2 \cdot A_{\triangle ABS} + 2 \cdot A_{\triangle BCS} + a \cdot b = 4\sqrt{10} \text{ cm}^2 + 2\sqrt{13} \text{ cm}^2 + 8 \text{ cm}^2$

$$V_{\text{Pyramide}} = \frac{1}{3} \cdot a \cdot b \cdot h = \frac{1}{3} \cdot 2 \cdot 4 \cdot 3 \text{ cm}^3 = 8 \text{ cm}^3$$



3. a) $x = \frac{1}{2} \cdot (b-a) = 3,0 \text{ m}$;

$$V = 2 \cdot \frac{1}{3} \cdot x \cdot a \cdot h + \frac{1}{2} \cdot a \cdot h \cdot a = 2 \cdot \frac{1}{3} \cdot 3 \cdot 6 \cdot 3 \text{ m}^3 + \frac{1}{2} \cdot 6 \cdot 3 \cdot 6 \text{ m}^3 = 36 \text{ m}^3 + 54 \text{ m}^3 = 90 \text{ m}^3$$

b) Die Dachfläche besteht aus 2 Trapezflächen und 2 Dreiecksflächen:

$$A_{\text{Trapez}} = \frac{a+b}{2} \cdot h_1 \quad \text{mit} \quad h_1^2 = h^2 + \left(\frac{a}{2}\right)^2 \quad \text{also} \quad h_1 = \sqrt{9+9} \text{ m} = 3\sqrt{2} \text{ m}$$

$$A_{\text{Dreieck}} = \frac{1}{2} \cdot a \cdot h_2 \quad \text{mit} \quad h_2^2 = h^2 + x^2 \quad \text{also} \quad h_2 = \sqrt{9+9} \text{ m} = 3\sqrt{2} \text{ m}$$

$$A_{\text{Dach}} = 2 \cdot \frac{a+b}{2} \cdot h_1 + 2 \cdot \frac{1}{2} \cdot a \cdot h_2 = (6+12) \cdot 3\sqrt{2} \text{ m}^2 + 6 \cdot 3\sqrt{2} \text{ m}^2 = 72\sqrt{2} \text{ m}^2 \approx 102 \text{ m}^2$$

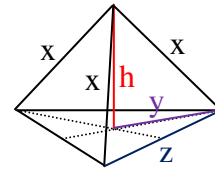
4. a) $A = 6 \cdot a^2 - 8 \cdot \frac{1}{2} \cdot x^2 = 6 \cdot a^2 - 4 \cdot (0,2a)^2 = 5,84 a^2$

b) $z = \sqrt{2} x$ und $y = \frac{2}{3} \cdot \frac{\sqrt{3}}{2} z = \frac{\sqrt{6}}{3} x$

$$h^2 = x^2 - y^2 \Rightarrow h = \sqrt{x^2 - \frac{6}{9}x^2} = \sqrt{\frac{3}{9}x^2} = \frac{\sqrt{3}}{3} x$$

$$V = a^3 - 8 \cdot \frac{1}{3} \cdot \left(\frac{1}{2} \cdot z \cdot \frac{\sqrt{3}}{2} z\right) \cdot h = a^3 - \frac{2}{3} z^2 \cdot h = a^3 - \frac{2}{3} \cdot 2x^2 \cdot \frac{\sqrt{3}}{3} x = a^3 - \frac{4\sqrt{3}}{9} x^3 =$$

$$a^3 - \frac{4\sqrt{3}}{9} (0,2a)^3 = a^3 - \frac{4\sqrt{3}}{9 \cdot 125} a^3 = \left(1 - \frac{4\sqrt{3}}{1125}\right) a^3 \approx 0,994 a^3$$



c)

